

5代将軍徳川綱吉の(1)世紀ころの文化が元禄文化で、これが大阪・京都の(2…漢字で)を中心に栄えた日本の歴史で初めての活気のある華やかな町人文化です。これに対し、(3)世紀始めのころの社会不安を背景にした、こっけいや皮肉を楽しむ、江戸を中心とした文化を化政文化といいます。下の文化に関係することがらや資料をそれぞれ記号で選びなさい。

資料

①



②



③



④




⑤



⑥



⑦



⑧

菜の花や 月は東に 日は西に

⑨

雀の子 そこのけそこのけお馬が通る

人物・建物	ア 元禄文化 イ 化政文化 アカイで答える	関係することがら 下から選ぶ	資料(上) 上の①～⑨から選ぶ
1 井原西鶴	(4)	(5)	(6)
2 近松門左衛門	(7)	(8)	(9)
3 十返舎一九	(10)	(11)	(12)
4 与謝蕪村	(13)	---	(14)
5 松尾芭蕉	(15)	(16)	---
6 小林一茶	(17)	(18)	(19)
7 菱川師宣	(20)	(21)	(22)
8 喜多川歌麿	(23)	(24)	(25)
9 葛飾北斎	(26)	(27)	(28)
10 歌川広重(安藤広重)	(29)	(30)	(31)
ア 南総里見八犬伝    イ 世間胸算用(浮世草子)    ウ 曾根崎心中(歌舞伎)    エ 東海道中膝栗毛 オ おらが春    カ 奥の細道    キ 役者絵(浮世絵)    ク 美人画(浮世絵)    ケ 見返り美人図(浮世絵) コ 東海道五十三次(浮世絵)    サ 富嶽三十六景(浮世絵)			

下は(32)、(33)といわれる歌です。

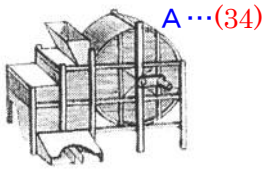
(32)

役人の子はにぎにぎをよく覚え  
侍が来ては買って高く楊枝

(33)

白河の清きに魚も住みかねて もとの濁りの田沼こひしき  
歌よみは下手こそよけれ 天地の動き出してたまるものかは

それぞれの農具名を答えなさい。



A...(34)



B...(35)



C...(36)



D...(37)

Bのくわの名につけられた備中とは、現在の(38)県の西部の地名のことです。この時代には油をしぼった残りの油かすやイワシを干して綿づくりの肥料として使われた(39)などの、お金で売買をする肥料のことをいう(40)が作り出されています。そして、これらの農業知識や栽培技術の広まりに大きな役割をはたした本が宮崎安貞が書いた(41…漢字で)という書物です。

(42)とは藍色の染料をとるタデ科の一年草のことです。紅花とともに古代から利用されてきました。

タバコは安土桃山の南蛮貿易の時代にポルトガル人が伝えた(43)科の植物です。高い価格で取引されるため、藩の奨励もあって各地で栽培され銘柄品も生まれています。

養蚕は、幕府や藩の奨励もあり農家の副業として信濃(長野県)・上野(群馬県)・丹後(京都府)などで発展しました。

木綿が日本に伝わったのは(44)時代のころですが、1700年前後には東北・北陸以外のほとんどの地域で生産されるようになり、人々の環境が衛生的になって平均寿命ものびています。

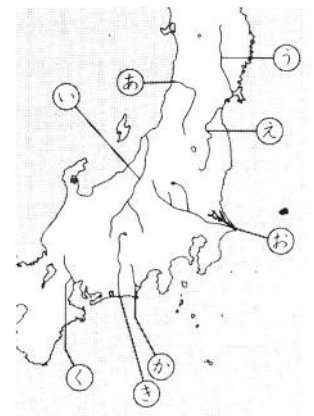
また、古くからの衣料の原料の(45)は、丈夫な性質を生かして綱・網・かや・畳糸などに使われています。さらに、ほしかをつくるために地引き網を使った漁業が、今の千葉県の

(46…地名)などでさかんになりました。また、瀬戸内海沿岸や千葉県では(47…漢字で)がさかんに生産されて各地に流通しています。



下の特産物に関する都市や地名、河川名を記号で答えなさい。

	都市や地名	河川名	都市や地名	河川名
しょう油	(1)	(2) (3…地図の場所を記号で)	ア灘(兵庫県)	カ最上川
絹織物	(4)	---	イ桐生(群馬県)	キ信濃川
べにぼな紅花	(5)	(6) (7…地図の場所を記号で)	ウ野田(千葉県)	ク利根川
日本酒	(8)	---	エ山形(山形県)	ケ富士川
茶	(9)	---	オ駿河(静岡県)	コ北上川




「箱根八里は馬でも越すが越すに越せない(10…?川)」と歌われた川は、地図の(11…地図の場所を記号で)です。

右は(12)とよばれた船です。この船は下関と博多の間の(13)海峡を通過して瀬戸内海をぬける(14)航路とよばれた航路を通過して、蝦夷地(北海道)や東北・北陸の産物を大阪まで運びました。



建物に農民や職人を集め、分業によって物をつくらせ、現在の工場の原型となった生産方法を(15…カタカナで)といいます。



有力な商工業者は(16…漢字で)という同業者組合をつくって営業を独占して大きな利益を得ていました。また、銀行に似た業務を行ない貨幣の交換をいとなんだ商人たちを(17…漢字)と



いいます。江戸は「将軍の(18…ひらがな)」とよばれ、大阪は天下の台所といわれました。大阪の川沿いには右のような米をたくわえておくための(19…右絵)という建物がたくさんありました。

また、幕府は、街道や重要地点に(20…漢字で)を設け、江戸へ鉄砲の持ちこむことをいう(21)と、江戸から出ていこうとする武家の女性のことをいう(22…漢字で)などをきびしく取り締まりました。また、大名や公家・幕府の役人のための宿場はとくに(23…漢字で)とよんでいます。さらに手紙などを運ぶ人のことをいう(24…漢字で)によって通信も整備されています。



下の街道名を記号で答えなさい。

街道名		
日本橋～品川～太平洋側を通り京都へ	(25)	ア 中山道
日本橋～千住～草加～古河～石橋～宇都宮～今市～日光	(26)	イ 奥州街道
日本橋～千住～草加～古河～石橋～宇都宮～白河	(27)	ウ 東海道
日本橋～高崎～軽井沢～塩尻～木曾福島～草津(滋賀県)で東海道の合流	(28)	エ 日光街道
日本橋～内藤新宿～甲府～下諏訪で中山道の合流	(29)	オ 甲州街道

下の都市をそれぞれに分けて記号で答えなさい。

宇治山田(三重県)	(30)	ア 城下町 イ 港町 ウ 宿場町 エ 門前町
金沢	(31)	
酒田(山形県)	(32)	
草津温泉(群馬県)	(33)	
琴平(香川県)	(34)	