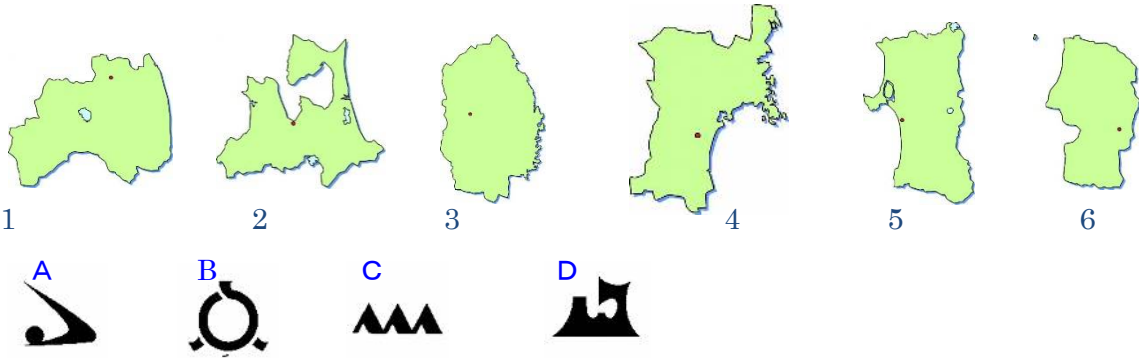



県章や県庁所在地名、県の位置やおもなことがらを答えなさい。市や県は省いて答えてもかまいません。



おもなことがら	県庁所在地	地図番号	県章
<p>いわきがわ 岩木川がそそぐ(1…?平野と地図での位置)でのりんごの栽培。三大美林の津軽ひば。東北三大祭の(2…?祭り)。縄文時代の(3…?遺跡)。東北新幹線の終着の(4)市。ホタテの養殖の(5…?湾と地図での位置)。津軽富士の(6…?山と地図での位置)。世界自然遺産の(7…?山地と地図での位置)。八甲田山のふもとの(8…?湖)。(9…?市と地図での位置)の津軽塗。(10…?村と地図での位置)の核燃料再処理施設。</p>	(4)	(11)	(12)
<p>よねしろがわ 米代川がそそぐ(13…?平野)。八郎瀧の(14…?村と地図での位置)でのあきたこまち。世界自然遺産の(7)。東北三大祭の(15…?祭り)。三大美林の(16)。秋田新幹線の終着駅。日本最深の湖の(17…?湖と地図での位置)。牡鹿半島に似た名の(18…?半島と地図での位置)。(19…?盆地)から秋田平野にそそぐ雄物川。大館市の(20…伝統工芸品)</p>	秋田	(21)	(22)
<p>(23…口紅や食用油)が栽培されている三大急流の(24…?川と地図での位置)がそそぐ(25…?平野と地図での位置)の稲作と港町の(26…?市と地図での位置)。(27…?盆地と地図での位置)のおとうやぶどう。(28…?市と地図での位置)の将棋の駒。山形新幹線の終着の(29)市。</p>	山形	(30)	(31)
<p>リアス海岸の(32…?海岸)。伝統的工芸品の(33…鉄瓶)。東北新幹線と秋田新幹線が分かれる(34…?市と地図での位置)。畜産と酪農。日本初の地熱発電所の(35…地名)と葛根田。日本の背骨といわれる(36…?山脈と地図での位置)の東を流れる(37…?川と地図での位置)。南部富士の(38…?山と地図での位置)。奥州藤原氏の浄土教建築で知られる世界遺産の(39…地名と地図での位置)。釜石市の明治日本の産業革命遺産。</p>	(34)	(40)	
<p>(41…?の都)とよばれる政令指定都市で百万都市の(42…?市と地図での位置)。仙台平野の稲作。(43…水産物)の養殖の(44…?半島と地図での位置)。伝統こけしの(45…?町と地図での位置)。北上川河口の漁港の(46…?市と地図での位置)。東北三大祭の(47…?祭り)。日本三景の(48…地名と地図での位置)。</p>	(42)	(49)	
<p>全国2位の(50…くだもの名)の生産の(51…?盆地と地図での位置)。原子力発電所。安積疎水や発電に利用されている(52…?湖と地図での位置)。山形新幹線と東北新幹線が分かれる(53…?市と地図での位置)。郡山盆地と福島盆地を通り、(54…?高地)の西を流れる(55…?川と地図での位置)。会津若松市の(56…?塗り)</p>	(53)	(57)	(58)

おもなことから	県庁所在地	地図番号	道章
<p>稲作の(1…?平野と地図での位置)や(2…?盆地と地図での位置)。日本の穀倉地帯の(3…?平野と地図での位置)での畑作。(4…?台地と地図での位置)での酪農。小麦・大豆・ジャガイモ・ダイコン・ニンジン・乳牛・肉牛。北海道の政治経済の中心で、雪祭り・ビール・乳製品の(5…?市と地図での位置)。掘り込み港の(6…?市と地図での位置)の製紙パルプ・石油精製。タンチョウ鶴で知られ、ラムサール条約に登録された(7…?湿原と地図での位置)。</p> <p>有数の漁港と製紙パルプの(8…?市と地図での位置)。(9…?市と地図での位置)の鉄鋼。</p> <p>世界自然遺産の(10…?半島と地図での位置)。水産加工と五稜郭のある(11…?市と地図での位置)。本州と結ぶ(12…?トンネルと地図での位置)をつなげた(13…?半島と地図での位置)。</p> <p>北海道の空の玄関の新千歳空港がある(14…?市と地図での位置)。動物の生態が観察できる動物園と製紙パルプの(15…?市と地図での位置)。蝦夷富士の(16…?山)。日本最北端の都市の(17…?市)。ホタテの養殖の(18…?湖と地図での位置)。毬藻で知られる湖のある(19…?国立公園と地図での位置)。専門のガイドによる説明を受けながら大自然を体験できる(20…?ツアー)。製糖の(21…?市と地図での位置)。北方領土の(22…?島と地図の19)・(23…?島と地図の18)・(24…?島と地図の20)・(25…?島と地図の21)。新青森駅～(26…?駅)をつなぐ北海道新幹線。「北海道・北東北の縄文遺跡群」の世界文化遺産</p>	(5)	---	

下の北海道の気候区を①日本海側(札幌) ②内陸部(旭川) ③東部(根室) にそれぞれ分けなさい。



(27…①か②か③で)



(28…①か②か③で)



(29…①か②か③で)

下の道府県名を答えなさい。

県	人口(人) 2022 (前年差人)	面積 (km ²) 2022	政令指定都市	米(トン) 2021	農業産出額 (百万円) 2020	野菜 (億円) 2020	畜産 (億円) 2018・19	漁獲量 (トン) 2020	工業出荷額(億円) 2020
(30)	2,279,554 -10,482	7,282	1	353,400	190,200	275	758	165,266	45,336
(31)	1,789,221 -22,969	13,784	0	335,800	211,600	480	455	71,514	50,890
(32)	1,204,372 -16,916	9,646	0	256,900	326,200	821	905	94,417	17,271
(33)	1,180,512 -15,765	15,275	0	268,600	274,100	292	1,569	65,919	26,262
(34)	929,937 -14,965	11,638	0	501,200	189,800	301	359	6,223	12,862
(35)	1,040,971 -13,758	9,323	0	393,800	250,800	465	361	4,847	28,456
(36)	5,139,522 -42,254	78,421	1	573,700	1,266,700	2,145	7,350	902,017	60,489

下の果物名を答えなさい。

(37) 2020年					
やまなし 山梨 21.42%	長野 19.77%				その他

やまがた
山形 9.49% ↓ ↳岡山 8.51%

(38) 2020年			
やまがた 山形75.58%			その他

北海道 7.62% ↓ ↳山梨 5.66%

(39) 2020年				
やまなし 山梨 30.74%	ふくしま 福島 23.05%			その他

長野 10.41% ↓ ↳山形 8.6%

(40) 2020年				
あおもり 青森 60.66%	ながの 長野 17.74%			その他

5.44% 岩手 6.18% ↓ ↳山形

(41) 2020年					
ちば 千葉 10.67%	長野 8.04%	茨城 7.92%	ふくしま 福島 7.57%	栃木 6.63%	その他

くだもの
果物の生産の順位は(42…ア～ウ)です。

かじつ 果実 2020年					
1位 10.4%	2位 10.2%	3位 8.7%	4位 8.3%	5位 7.4%	その他

	1位	2位	3位	4位	5位
ア	あおもり 青森	ながの 長野	わかやま 和歌山	やまがた 山形	やまなし 山梨
イ	やまなし 山梨	わかやま 和歌山	ながの 長野	やまがた 山形	あおもり 青森
ウ	ながの 長野	やまなし 山梨	わかやま 和歌山	やまがた 山形	あおもり 青森

下の畜産物名を答えなさい。

(43)(頭) 2021年				
↑岩手 4,100				
北海道 830,300				その他
とちぎ 栃木53,100 ↓ ↳熊本 43,800				

(44)(千) 2021年				
宮崎 28012	鹿児島 27085	岩手 22600	青森 7087	その他

(45) 2020年			
ほっかいどう 北海道 20.5%	かごしま 鹿児島 13.3%	みやざき 宮崎 9.6%	その他
熊本5.2% [↓]			

(46) 2019年					
千葉6.6% [↑] 茨城5.1%					
かごしま 鹿児島 13.9%	みやざき 宮崎 9.1%				その他
北海道7.6% [↓] 群馬6.9%					

下の農作物名を答えなさい。

(47) 2018年			
北海道 62.1%	さが 佐賀 10.2%		その他
ひょうご 兵庫8.3% [↓]			

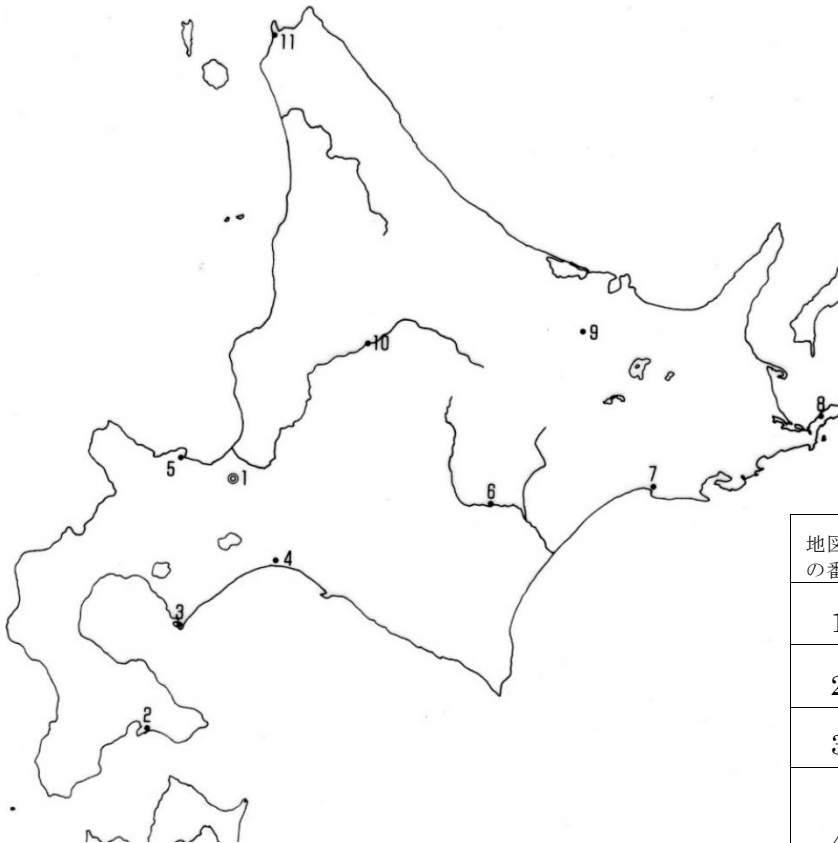
(48) 2020			
北海道 66%			その他
ふくおか 福岡6% [↓] 佐賀4%			

(49) 2020年			
長崎 4.08% [↑]			
北海道 78.08%			その他
かごしま 鹿児島4.27% [↓]			

(50) 2020年			
福岡 5%			
北海道 43%			その他
みやぎ 宮城9% [↓]			

都市の確認

地図に示された番号の都市名を答えなさい。



地図での番号	おもな都市
1	雪祭り・ビール・乳製品の(51)市。
2	水産加工と五稜郭の(52)市。
3	鉄鋼の(53)市。
4	製紙・パルプ・石油精製・掘り込み港の(54)市。
6	日本の穀倉地帯にある製糖の(55)市。
7	北海道一の漁港で製紙・パルプの(56)市。
11	最北端の都市の(57)市。