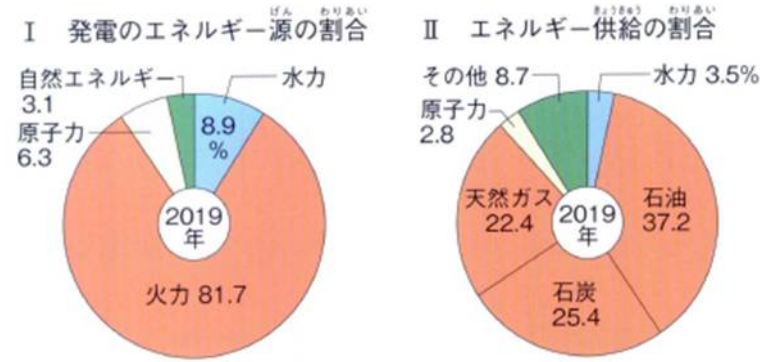


国が生年月・性別・就いている仕事の内容や勤務地などをいっせに行なう調査を(1…?調査)といい、第1回目は1920年(大正9年)10月1日に実施されました。そのあとは(2…?省)が中心となって、(3)年に1度、西暦が5の倍数の年の10月に行われています。

統計資料を読み取ろう



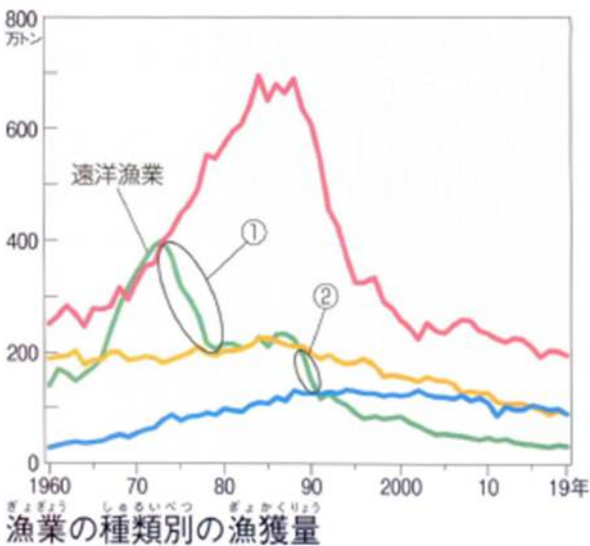

左の発電エネルギー源の割合から、最も多いのは(4)で、その燃料は(5)が最も多くなっていることが分かります。

また、水力の示す数値がちがうのは、左のグラフが(6)のエネルギーを表しているのに対して、右は(7)のエネルギーを表しているためです。

統計資料の数値は、時とともに変化します。

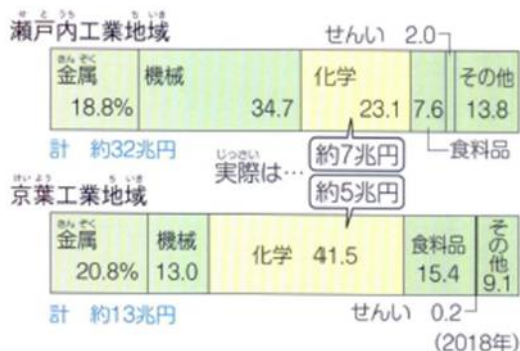
右のおもな輸出品目のグラフを、時代の背景を考えて、ア.1934~1936年の平均 イ.1975年 ウ.2020年に分けなさい。

Ⅲ…(8) Ⅳ…(9) Ⅴ…(10)



遠洋漁業が①のところで減少している原因は、(11)のできごとがあって漁船の燃料代が増えたことと、各国が(12)水域を設定したためです。

また、②は(13…外国名)が規制を強めて自国の水域で他国の漁船が魚をとることを禁止したためです。

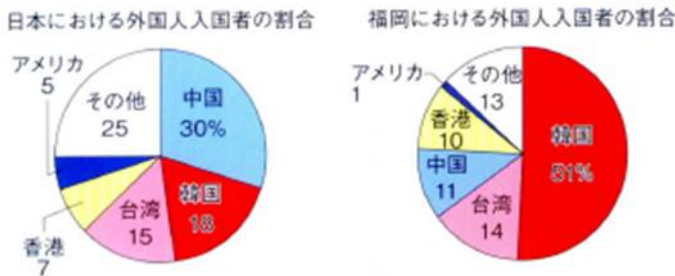


左の2つの工業地域の化学工業の占める割合では、京葉工業地域の数値が大きいのに、実際の金額では逆になっています。これを見分けるためには(14)を見れば判断できることが分かります。

	第三次産業 (%)	年間商品販売額 (十億円) 2015年		着工新設住宅のうち 持ち家率 (%) 2019年
		小売業	卸売業	
東京都	83.7	20574	179112	11.6
①	80.7	1366	1549	20.0
②	76.5	6581	12310	36.4
③	66.6	1156	1239	63.6
全国	72.5	145104	436523	32.1

左は、東京都・北海道・秋田県・沖縄県の第三次産業、年間商品販売額(小売業・卸売業)、着工新設住宅のうち  
の持ち家率を示したものです。当てはまる道県名を答えな  
さい。 ①…(15) ②…(16) ③…(17)  
ヒント…年間商品販売額は人口に比例します。

【資料】日本における外国人入国者の割合と福岡における外国人入国者の割合 (2019年)



左を正しく読み取った文を記号で答えなさい。

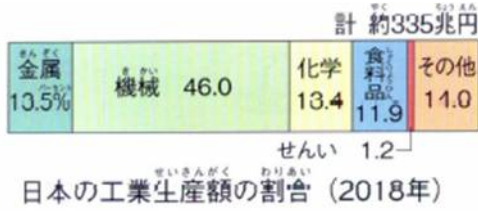
- ア 日本における外国人入国者の数と福岡における外国人入国者の数は、どちらも中国、韓国の順で多くなっている。
- イ 日本における外国人入国者とくらべて、福岡における外国人入国者の方が、多くの国から入国しています。
- ウ 福岡における外国人入国者は、韓国からの割合が最も高くなっています。
- エ 日本における外国人入国者の中で、アメリカからの入国者の数は中国からの入国者の数よりも多くなっています。

(18)

【地域別の農業生産額割合】 2019年



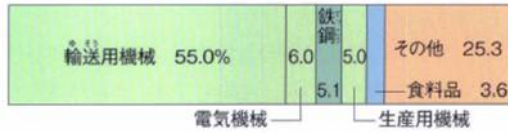
- 畜産がさかんな地方は(19…2つ)です。その理由は、火山灰地である(20…?台地を2つ)にあります。
- 関東地方の野菜は(21…?農業)で、四国地方の野菜は(22…?栽培)です。
- 米は東北地方・中部地方・北陸地方の(23…?地帯)での生産が多くなっています。  
東北地方での米の割合は約35%で、北陸地方での米の割合は約60%ですが、米の生産額が多いのは(24)地方です。




左は日本の工業生産額の割合を表しています。この中で、石油・石炭製品はどの工業に分類されますか。 (25)工業

下のそれぞれの都道府県の工業生産額の割合(2018)のグラフを選び、記号で答えなさい。

ア



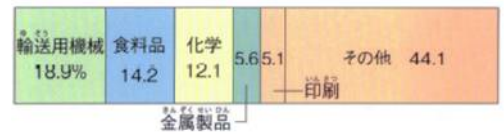
イ



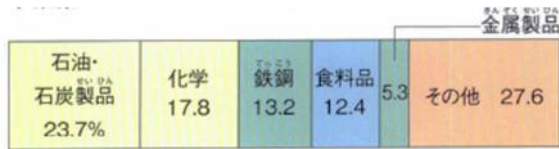
ウ




エ



オ



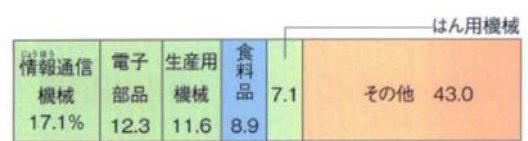
カ



キ



ク



ケ



コ



東京都…情報が集まるため、印刷・出版がさかん。(26)

静岡県…自動車や電気機器の生産がさかん。(27)

埼玉県…東京の印刷業の工場が移転してきた。(28)

長野県…諏訪湖周辺での電子工業がさかん。(29)

群馬県…関東内陸の太田市を中心に、自動車工業がさかん。(30)

愛知県…豊田市を中心に、自動車工業がさかん。(31)

岩手県…自動車の組み立て工場が進出してきた。(32)

北海道…地元の農水産物を使った食料品工業。(33)


神奈川県…自動車の生産と石油化学工業。(34)

千葉県…市原市の石油化学コンビナート。(35)

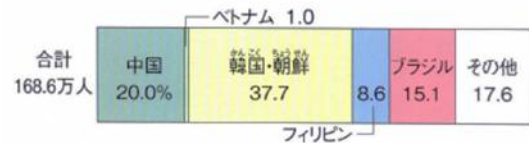


【日本に住む外国人】 2020年

国籍別の割合

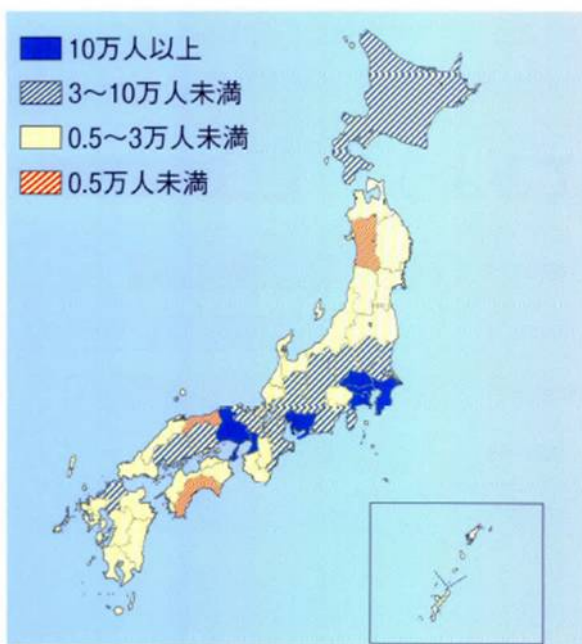


2000年の日本に住む外国人の国籍別の割合



日本に住む外国人の数を 2000 年とくらべると、(36…外国名)の人たちが増えていることが分かります。

都道府県別の外国人の数



現在の日本には、290 万人ほどの外国人が暮らしており、最も多いのは(37…外国名)の人です。

2位の(36)の人たちと(38…外国名)の人たちの多くは、日本で仕事を学ぶための(39…?生)として暮らしています。

3位の韓国の人たちは、戦前から日本で暮らしてきた人たちの子孫で、(40…都道府県名)で特に多くなっています。

5位のブラジルの多くは日系人です。日系人とは外国に移住した日本人とその子孫の人たちで、日本で働くことが認められています。その多くは愛知県(41…自動車の街)市・群馬県(42…スバル自動車の工場がある)市・静岡県(43…ヤマハ自動車)市などの自動車の組立工場働いている人たちとその家族です。

都道府県の中で、最も人口が多い都市が都道府県庁所在地でない都市は、山口県(44)市・三重県(45)市・静岡県(46)市・群馬県(47…電気機器)市・福島県(48…ひらがなの市)市の 5 つです。