

近畿地方(2府・5県)



近畿地方で府県名と府県庁所在地が異なるのは3つです。

兵庫県の(1)市と三重県の(2)市、滋賀県の(3)市です。

そして、大阪市・神戸市・京都市の3つが百万都市で政令指定都市、堺市が政令指定都市です。

また、(4)県は、日本海と瀬戸内海の両方に面しています。



琵琶湖から流れ出ている川は淀川だけです。この川は大阪湾に注ぎ、滋賀県では(5…?川)、京都府では(6…?川)、大阪府で淀川とよばれています。また、滋賀県の昔の国名である近江は「都に近い湖のある国」という意味で、大津とは大きな(7)という意味です。

昔は東北地方や中部地方の日本海側から、米や塩、魚などが福井県まで船で運ばれ、さらに琵琶湖と淀川を使って、船で京都や大阪まで送られたため、都の食料をささえる重要港だったのです。



人口が多い都市(人)		2024/01/01
市		人口(人)
1	政 横浜市	3,771,766
2	政 大阪市	2,770,520
3	政 名古屋市	2,326,683
4	政 札幌市	1,969,918
5	政 福岡市	1,642,571
6	政 川崎市	1,545,604
7	政 神戸市	1,499,887
8	政 京都市	1,443,486
9	政 さいたま市	1,344,850
10	政 広島市	1,185,505
11	政 仙台市	1,097,814
12	政 千葉市	979,532
13	政 北九州市	916,241
14	政 堺市	812,027
15	政 浜松市	779,780
16	政 新潟市	772,388
17	政 熊本市	738,020
18	政 相模原市	725,087
19	政 岡山市	715,740
20	政 静岡市	677,286

中国地方(5 県)・四国地方(4 県)



この地方で県名と県庁所在地が異なっているのは、島根県の(8)市・香川県の(9)市・愛媛県の(10)市の3つです。

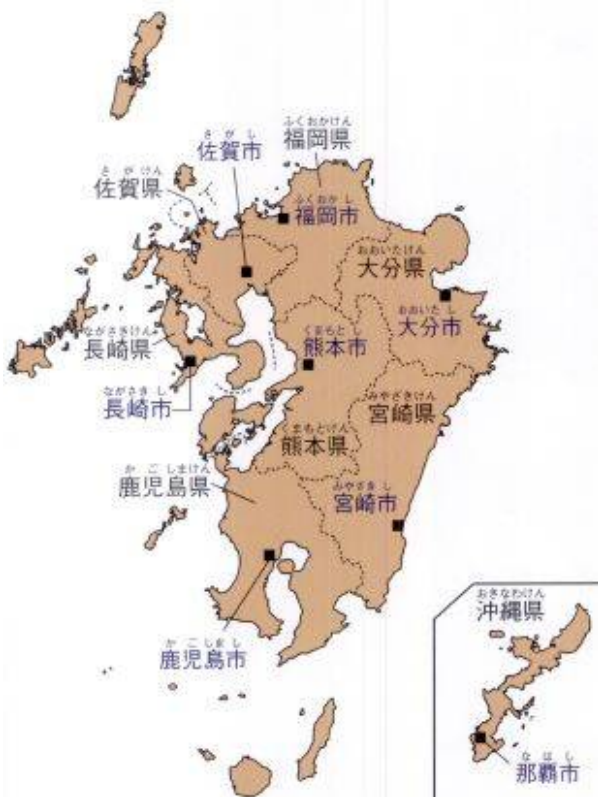
そして、3つの都市に共通して使われている漢字が(11…漢字1文字)です。

広島市が百万都市で、広島市と岡山市の2つが政令指定都市です。

また、面積が最も小さい県は(12)県ですが、かつては大阪府が最も小さい都道府県でした。埋め立て工事などによって面積が大きくなったのです。さらに、人口の少ない都道府県の1位は(13)県で、2位は(14)県です。これからは、人口が100

万人未満の都道府県が増えていくと考えられています。

九州地方(8 県)

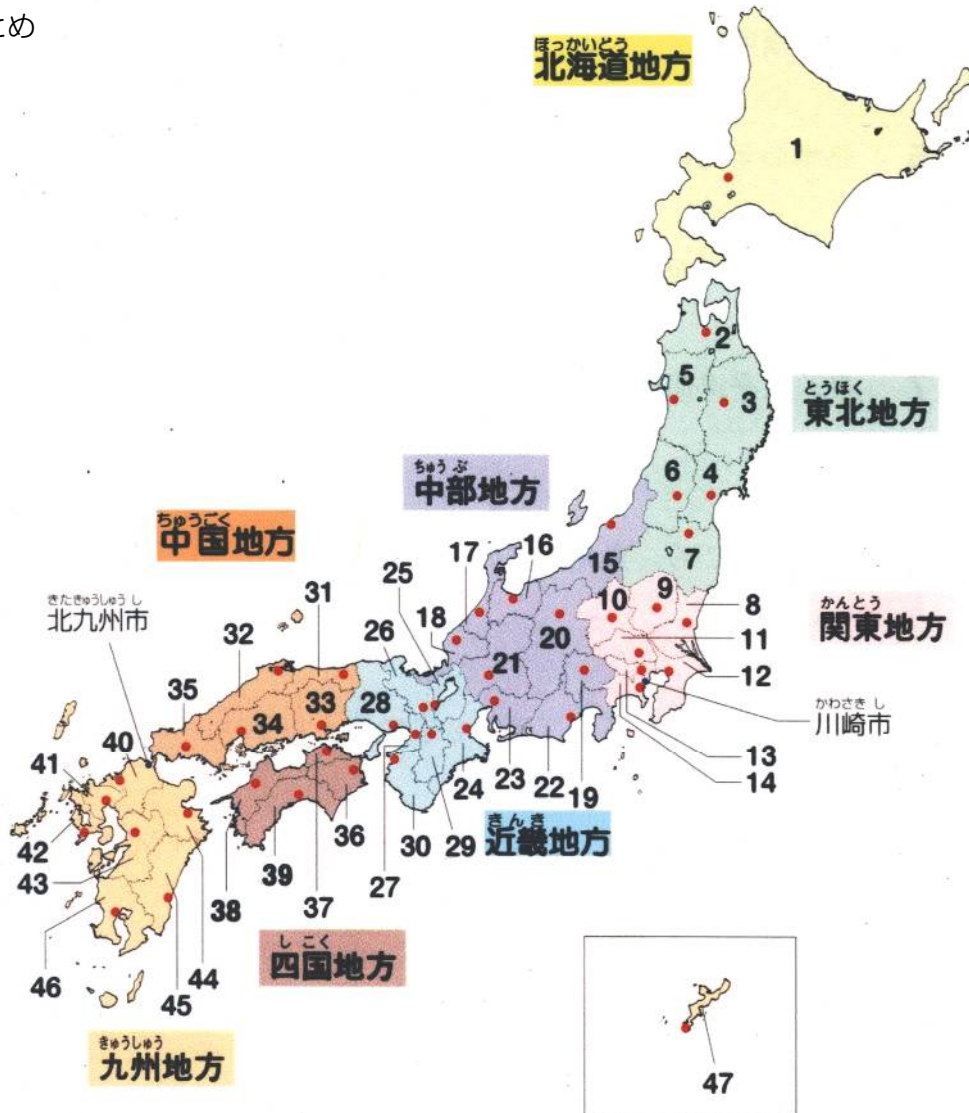


この地方は、沖縄県の(15)市をのぞいて、県名と県庁所在地がみな同じです。そして、九州とよぶのは、昔は筑前国・筑後国・肥前国・肥後国・豊前国・豊後国・日向国・薩摩国・大隅国の9つの国(州)があったためです。そのよび方は現在も使われています。また、四国は讃岐国・阿波国・伊予国・土佐国とその数が合っています。

接している都道府県が1つだけの県は(16)県です。ですから、この県からほかの都道府県に行くときは必ず佐賀県を通ることになります。また、まわりを海に囲まれているため接している都道府県がない都道府県は沖縄県と北海道です。しかし、北海道へは青函トンネルを使って鉄道で行くことができます。

そして、海に面していない県は、関東地方に(17…東から)県・(18…東から)県・(19…東から)県、中部地方に(20…北から)県・(21…北から)県・(22…北から)県、近畿地方に(23…北から)県・(24…北から)県の全部で8つの県があります。







まとめ



地図の都道府県名と都道府県庁所在地を答えなさい。

番号	都道府県名	都道府県庁所在地	番号	都道府県名	都道府県庁所在地
近畿地方(2府・5県)			中国地方(5県)・四国地方(4県)		
24	(25)	(26)市	31	(35)	(35)市
25	(27)	(28)市	32	(36)	(37)市
26	(29)	(29)市	33	(38)	(38)市
27	(30)	(30)市	34	(39)	(39)市
28	(31)	(32)市	35	(40)	(40)市
29	(33)	(33)市	36	(41)	(41)区
30	(34)	(34)市	37	(42)	(43)市
			38	(44)	(45)市
			39	(46)	(46)市
九州地方(8県)					
40	(47)	(47)市	44	(51)	(51)市
41	(48)	(48)市	45	(52)	(52)市
42	(49)	(49)市	46	(53)	(53)市
43	(50)	(50)市	47	(54)	(55)市

下の各都道府県のマークが表す都道府県を地図の番号で答えなさい。

					
(56)	(57)	(58)	(59)	(60)	(61)