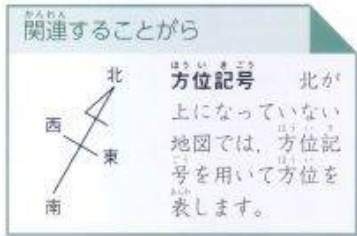


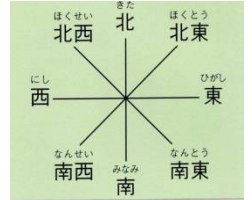
ぶどうやりんごのように、木に実がなるものを**くだもの**といい、ウリやキュウリのように畑で栽培する草は**野菜**と
 といいます。下の植物をくだものは**(ク)**と、野菜は**(ヤ)**と分けて答えなさい。

キーウィーフルーツ…**(1)** うり…**(2)** イチゴ…**(3)** スイカ…**(4)** メロン…**(5)**

方位のやくそく



左は**方位記号**といい、上が北になっていない地図のときに
 使います。記号の上は**北 = N**(ノース)、下は**南 = S**(サウス)、
 右は**(6…東西南北で) = E**(イースト)を表しています。



右の表し方は**(7…? 方位)**といい、北と東の間の方位を表す
 きは、東や西よりも北と南を先に書いて、それぞれの方位を表します。






























たとえば、北と西の間は「西北」とはいわずに**北西**とといいます。

また、方位が分からないときは、右の**(8)**を使います。それがなくときは、①正午に
 太陽が見える方角が**(9…東西南北で)**で、②夜に北極星が見える方角が**(10…東西南北で)**
 です。また、③木の切り株があるときは、**年輪の幅が広い方が南**になります。日光が
 当たる側の幹の成長がはやいためです。

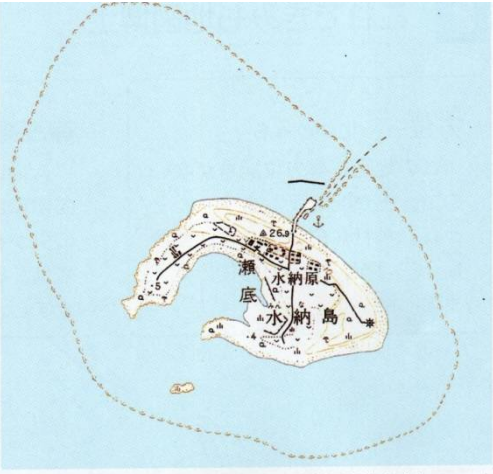


地図記号


田	田は 切り株 をもとに してつくられました。	畑	畑は ふた葉 をもとに つくられました。	○	(11)…果物の形をも とにつくられました た。
蚕	(12) …蚕 のえさにする ための木です。	茶	(13) …茶 の実を 表しています。	⊙	(14) …広い葉の形と 木のかげです。
△	(15) …とがった葉の形と 木のかげです。	林	(16) …? 林	≡	(17) …雑草で荒れた 土地。
神社	神社の記号は (18) の形を もとにつくられました。	消防署	消防署…火消しが使った (19) という道具がもとです。	卍	(20) …仏教の卍の 文字がもとです。
城	(21) …城 をつくるときに 張ったなわの形です。	病院	病院…+の (22) の印が もとになっています。	⊕	(23) …犬の予防注射 や殺虫剤をまいたり します。
郵便局	郵便局	工場	工場…機械の (24) の形が もとになっています。	⚙	発電所…電気でおこ すための (25) …カタカ ナ の形がもとです。
光	(26) …遠くまで光を出し ているようすです。	警察署	警察署…警棒を交わら せて○でかこんだもの。	⊗	(27) …警察官が常駐 しているところ です。
文	小中学校… (28) …? 省 と いう国の役所の文の字を 使っています。	文	(29)	⊗	(30)

 建物が集まっているところ です。	 (31)か区役所(東京都)を 表しています。	 (32)
 (33)	 (34)	 (35)や美術館
 (36)	 (37)…そろばんの玉を 表しています。	 (38)…高札の形です。
 重要な港	 地方の港	 (39)
 (40)	 飛行場	 温泉
 (41)…つるはしの形がも とになっています。	 (42)	 上がJ R の駅で、 下は(43)の駅です。
 (44)	 (45)	 (46)
 (47)	 (48)	 (49)
 (50)	 (51)…国を守る組織。	 (52)
 電波塔	 電子基準点	 (53)の境

縮尺とは？



1 25000分の1の地形図 (沖縄県水納島)



2 50000分の1の地形図

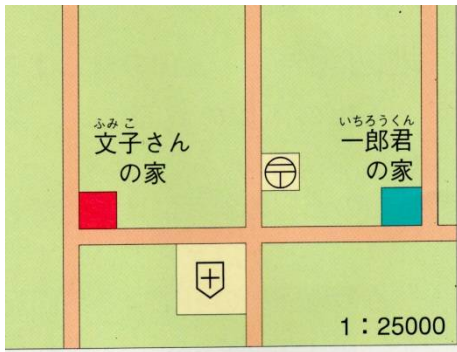
1 : 50000 $\frac{1}{50000}$ 0 500 1000 m

実際の距離を縮めた割合を(54)といい、上のように表します。
 沖縄県水納島の地図を見ても分かるように、割合の分母が大きくなる
 ほど縮めて表すことになるため、地図上での大きさは(55…大きくか
 小さくで)なります。2の地図は1の地図の2分の1の長さになって

いて、その面積は(56…分数で)の大きさです。

- 注意 - 面積は、長さ×長さですから、5万分の1の縮尺のときの実際の面積は、5万×5万=250000万倍
 になります。つまり、地図で1cm²の実際の面積は2500000000cm²=250000m²=2500a=(57)haなのです。

実際の距離の求め方



50000 分の 1 の地図で、地図上の 1cm の長さの実際の距離は 1cm の (58) 倍の (58)cm = (59)m = (60)km です。

左の地図で、一郎君の家から文子さんの家まで 4cm だとしたら、実際の距離は (61)m になります。