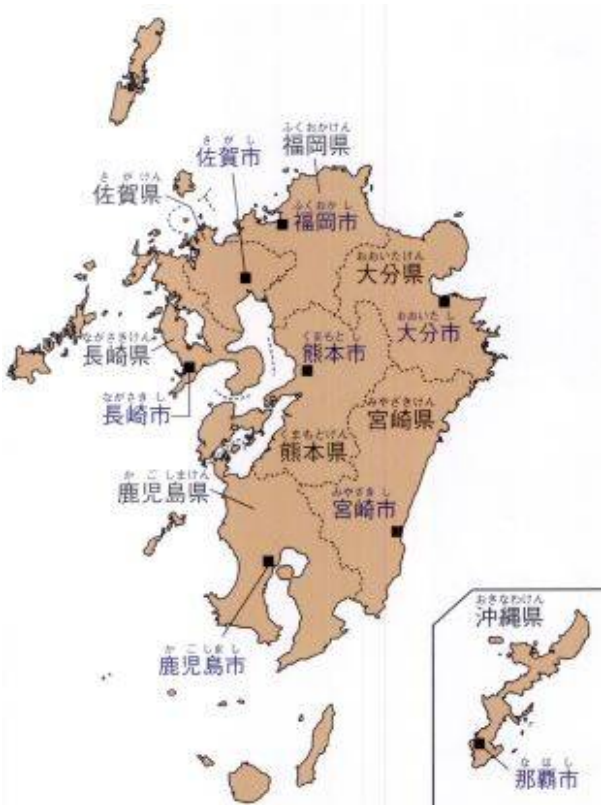


九州地方(8県)



九州地方は、沖縄県の那覇市をのぞいて、県名と県庁所在地がみな同じです。そして、九州とよぶのは、昔は筑前国・筑後国・肥前国・肥後国・豊前国・豊後国・日向国・薩摩国・大隅国の9つの国(州)があったためです。また、四国は讃岐国・阿波国・伊予国・土佐国と4つの国からなっています。

山地・火山・火山灰地・平野

中央部に高くてけわしい(1…?山地と地図の番号で)があり、北部には低くなだらかな(2…?山地と地図の番号で)があります。噴火によって(3…?半島と地図の番号で)とつながった鹿児島県の桜島、薩摩半島にあって薩摩富士とよばれる



れる(4…火山名と地図の番号で)、火口がくぼんでできた世界最大級の(5…カタカナ)をもつ熊本県の阿蘇山、多くの被害が出た長崎県の(6…火山名と地図の番号で)などのたくさんの火山があります。そのため、(7…カタカナ)とよばれる白い砂のような火山灰地が鹿児島県と宮崎県に広がっています。

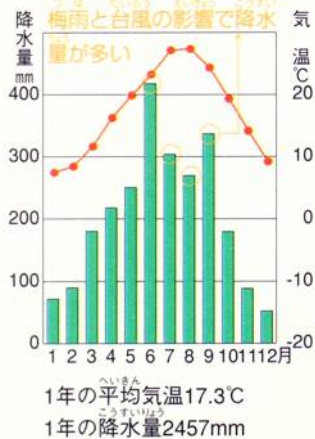


そのため、この地域は農作物を作るのに適しておらず、牛や豚などの家畜を飼う(8…農業の種類)が行われているのです。

この地には平野が多くありません。筑紫次郎の別名で知られる(9…?川)の流域に広がる筑紫平野、三大急流の(10…?川と地図の番号で)の下流にある(11…?平野と地図の番号で)、促成栽培で知られる大淀川の下流の(12…?平野と地図の番号で)くらいです。※川の長男は板東太郎(利根川)、次男が筑紫次郎(筑後川)、三男が四国三郎(吉野川)です。

気候

太平洋側(宮崎)



九州の太平洋側は、(13…日本海流の別名)の影響で温暖な気候です。

6月の(14…季節の一部)と、9月の(15)の時期に、降水量が多くなります。

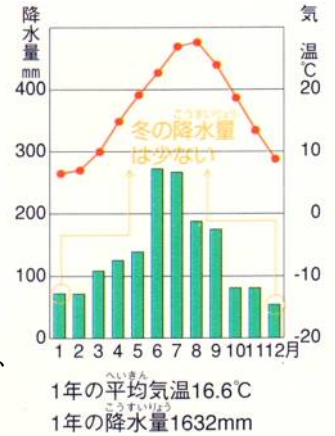
宮崎の海岸では、フェニックスやビロウなどの亜熱帯植物が見られます。

日本海側は、冬の北西の季節風の影響で雲が多くなるため、くもりの日が多くなります。

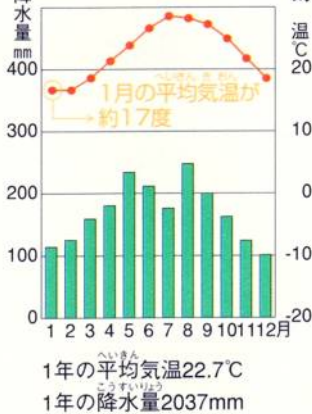
しかし、暖流の(16…?海流)が流れているため、気温は太平洋側とあまり変わりません。

雪の降る日は東京よりも多くなりますが、降水量は少なくなります。

日本海側(福岡)



南西諸島(那覇)



南西諸島にある島々は、1年を通して降水量が多く、温暖な気候です。気温に大きな特徴があり、最も寒い1月の平均気温は約(17)℃もあります。

夏から秋にかけて多くの台風がやってきますが、沖縄島などは森林が少なく、水を通しやすいさんご礁などの岩でできていることから、水不足になやまされてきましたが、現在は地下にダムをつくり、海水から真水をつくる淡水化センターの施設も利用されるようになって、水不足は解消しています。

農業



かつて、筑紫平野では(18…カタカナで)とよばれる網の目のような水路がはりめぐらされ、農業用水に利用されてきました。今では耕地整理によりほとんどが埋め立てられており、稲作のほかに、大都市向けの野菜などが栽培されています。

宮崎平野ではビニールハウスを用いての(19…?栽培)をしています。

畳表の原料になるいぐさは、そのほとんどが熊本県の(20…漢字で?平野)でつくられています。

稲作に向かないシラス台地では、昔から(21…甘藷のこと)の栽培がさかんです。

大規模な畜産も行われ、とくに薩摩(鹿児島県)の黒豚は味のよい高級な豚肉として有名です。

豚の生産の順位を表しているものは(22…ア～ウで)です。

ぶた 2021年				
5位 6.6%				
1位 13.3%	2位 8.6%	その他		
3位 7.8% 4位 6.9%				

	1位	2位	3位	4位	5位
ア	鹿児島	宮崎	北海道	群馬	千葉
イ	宮崎	鹿児島	北海道	群馬	千葉
ウ	鹿児島	北海道	宮崎	千葉	群馬

肉牛の飼育数の順位を表しているものは(23…ア～ウで)です。

肉牛(頭) 2021年				
1位 535,800	2位 351,100	3位 250,000	その他	
熊本 134,700				

	1位	2位	3位
ア	北海道	宮崎	鹿児島
イ	北海道	鹿児島	宮崎
ウ	北海道	鹿児島	栃木

(24…?県)の松阪牛や、(25…?県)の米沢牛、兵庫県の神戸牛などのブランド牛があります。

ブロイラーは(26…記号で)で、採卵鶏(たまごをとるためのニワトリ)は(27…記号で)です。

ブロイラー(千羽) 2021年			
1位 28012	2位 27085	3位 22600	その他

	1位	2位	3位
ア	鹿児島	宮崎	岩手
イ	宮崎	鹿児島	岩手
ウ	岩手	鹿児島	栃木

採卵鶏 2021年			
1位 17756	2位 12008	3位 11605	その他

	1位	2位	3位
ア	茨城	鹿児島	千葉
イ	鹿児島	茨城	千葉
ウ	千葉	鹿児島	茨城

大豆は外国産の方が安くて質もよく、ほとんどはアメリカから輸入しています。国内での大豆生産は(28…ア～ウで選ぶ)です。

大豆 2020年			
2位 9% 3位 5%			
1位 43%	その他		

	1位	2位	3位
ア	北海道	宮城	秋田
イ	北海道	宮城	福岡
ウ	北海道	秋田	宮城

小麦もそのほとんどは輸入です。国内での小麦の生産は(29…ア～ウで選ぶ)です。

小麦 2020年			
1位 66%	その他		
2位 6% 3位 4%			

	1位	2位	3位
ア	北海道	福岡	佐賀
イ	北海道	香川	福岡
ウ	北海道	福岡	香川

じゃがいもの生産は(30…ア～ウで選ぶ)です。

じゃがいも 2021年			
3位 3.76% ^ㄐ			
1位 77.52%			その他
2位 4.18% ^ㄐ			

	1位	2位	3位
ア	北海道	鹿児島	長崎
イ	北海道	長崎	鹿児島
ウ	北海道	茨城	長崎

さつまいもの生産は(31…ア～ウで選ぶ)です。

さつまいも 2021年				
1位 28.37%	2位 28.16%	3位 13.01% %		その他
4位 10.0% ^ㄐ				

	1位	2位	3位	4位
ア	かごしま 鹿児島	ちば 千葉	宮崎	群馬
イ	かごしま 鹿児島	いばらき 茨城	ちば 千葉	宮崎
ウ	いばらき 茨城	かごしま 鹿児島	ちば 千葉	宮崎

茶の生産は、(32)県が長い間1位でしたが、一時、全国で最も早く出荷される(33)県に抜かれました。
高級茶の(34)茶は、京都府の(34)川の近くでつくられています。関東では埼玉県の(35)茶が有名です。

グラフのそれぞれに入る作物名を答えなさい。

(36…作物名) 2021年				
茨城 22.49%	宮崎 18.05%			その他
鹿児島 8.96% ^ㄐ 高知 8.75% ^ㄐ				

(37…作物名) 2021年				
こうち 高知 13.2%	くまもと 熊本 11.19%	ぐんま 群馬 9.2%		その他
茨城 6.08% ^ㄐ				

(38…作物名) 2021年			
北海道 60.75%	さが 佐賀 9.2%		その他
ひょうご 兵庫 9.14% ^ㄐ			

下の表には、[メロン 大根 イチゴ ねぎ スイカ 食用菊 トマト]が入ります。

(39) 2021		(40) 2021		(41) 2021		(42) 2020		(43) 2021	
1	ちば 千葉 11.79%	1	とちぎ 栃木 17%	1	いばらき 茨城 24.3%	1	愛知 51.3%	1	くまもと 熊本 15.4%
2	北海道 11.45%	2	ふくおか 福岡 11%	2	くまもと 熊本 16.9%	2	山形 18.5%	2	ちば 千葉 11.7%
3	あおもり 青森 9.14%	3	くまもと 熊本 8%	3	北海道 13.6%	3	青森 14.7%	3	山形 10.1%
4	鹿児島 7.39%	4	愛知 8%	4	山形 6.9%	4	秋田 7.0%	4	新潟 5.6%
								5	愛知 5.5%
								6	鳥取 5.4%

(44) 2021	
1	熊本 18.27%
2	北海道 8.99%
3	愛知 6.78%

(45…?諸島)にある沖縄の島々は、サンゴなどが変化した水を通しやすい土のため稲作に向いていません。そのため、昔は(46…砂糖の原料)の栽培が中心でしたが、今は外国産におされてあまりつくられていません。菊などの花、いんげんなどの野菜、マンゴーなどのくだものが栽培され、飛行機で出荷されています。



水産業

九州の西にある(47…海名)には、海底が台地のようになった(48)が広がるよい漁場があり、長崎県・松浦港などの魚介類の水揚げ量が多くなっています。(49…県名)・佐賀・長崎・熊本の4つの県に囲まれた(50…海名と地図の番号で)では、のりの養殖がさかんです。大分県には世界初の海洋牧場があります。

漁業漁獲量(t)		2021
1	北海道	915,657
2	茨城	302,068
3	長崎	247,359
4	静岡	206,869
5	宮城	184,415

工業

1901年、日本は戦争に備えて国内で鉄鋼を生産するため、北九州に(51…?製鉄所)をつくりました。国内ではまかなえない鉄鉱石を中国から輸入する必要があったためにこの地が選ばれたのです。その後、この地域は門司・八幡などの5つの市が合併して(52…?市と地図の番号で)となり、福岡市とともに発展してきました。しかし、第二次大戦後は鉄鉱石の輸入先がオーストラリアなどに変わったことや大都市近くに大きな製鉄所が建設されたために、この地はふるわなくなりました。




北九州工業地域は、ほかと比べて水産物加工など(53)の割合が多くなっています。また、他と同じように(54)工業が中心で、福岡県などに自動車の組立工場があります。近年は、情報通信機器などの高い技術を必要とする工業に力が入られています。

おもな工業都市

- ①製鉄所とこの地方にただひとつの石油化学コンビナートがある大分県の(55…都市名と地図の記号で)市、②造船がさかんな長崎県の(56…原爆が投下された都市名と地図の記号で)市と(57…米軍基地のある都市名と地図の記号で)市、③タイヤなどのゴムの生産と綿織物の(58)がすりで知られる福岡県の(58…都市名)市、④有田焼で知られる佐賀県の(59…町名と地図の記号で)町・伊万里市・唐津市などがあります。

なかでも陶磁器は400年ほど前の豊臣秀吉による朝鮮出兵のときに、秀吉が朝鮮の陶工を連れてきたことから始まっています。鹿児島県の薩摩焼、山口県の萩焼も彼らの技術によって広まったものです。また、伊万里焼や唐津焼とは有田焼の陶磁器のことですが、伊万里や唐津の港から積み出されたためにそうよばれています。また、九州は土地の価格が安くて空気や水がきれいなことから、1970年代以降に多くの半導体の工場が進出し、かつて九州は半導体の原料の名をとって(60…?アイランド)とよばれました。



交通

関門海峡によってへだてられている九州の門司市と本州の下関市の間は、3つの海底トンネルの(61)トンネルと1つの橋の(61)橋によって結ばれており、山陽新幹線もこの新トンネルを通過しています。



九州新幹線(つばめ)



2011年には、鹿児島中央駅から(62)駅を結ぶ九州新幹線が開通しました。



西九州新幹線

2022年には、佐賀県武雄市と長崎県長崎市の九州西端を走る全長66キロの日本で最も短い新幹線の九州新幹線長崎ルート(西九州新幹線)が開業しています。武雄温泉(佐賀県)で在来線の特急と乗り換えを行って運航しています。

①高速道路

1995年の(63...?自動車道)の開通で、今や青森市から鹿児島までが高速道路でつながっています。

②空港

日本を訪れた外国人で最も多いのは(64...外国名)の人たちでした。

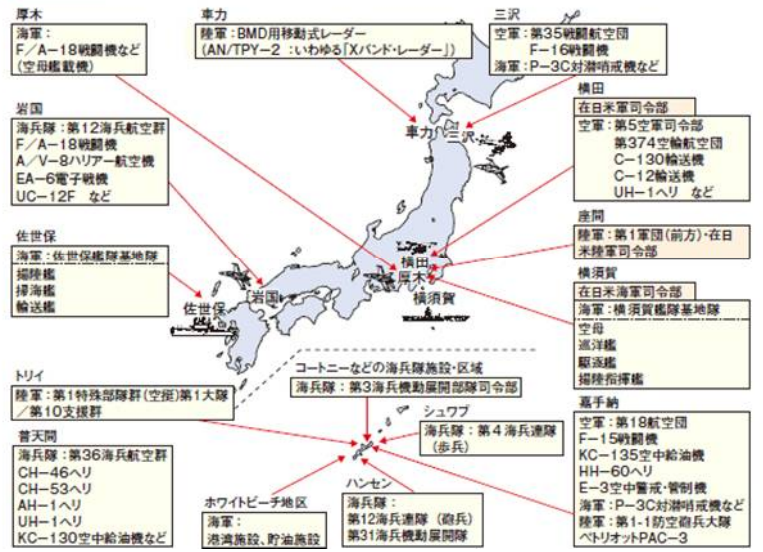
九州の島々

沖縄県は、160以上の島々が東西約800km、南北約400kmに広がっています。しかし、その面積は日本全土の0.6%にすぎません。太平洋戦争のあとは、アメリカ軍の支配が続き、日本に復帰したのは27年後の1972年のことです。



左は当時の沖縄の街のようすです。国内とちがいで、(65...?が?)していることに気が付きます。また、日本の国土面積の0.6%にすぎない沖縄県の沖縄島の面積の約15%がアメリカ軍基地として使用され、かつ日本にいるアメリカ軍の約(66)%が沖縄に集中しているという現実があります。そのため、アメリカ軍の戦闘機による騒音やアメリカ軍兵士による犯罪など、さまざまな問題が発生し、基地に反対する声が多くあります。アメリカ軍の普天間飛行場は住宅が密集しているところにあり、辺野古に移設する計画も地元の人たちの反対があつてなかなか進んでいません。

図表 Ⅱ-2-1-5 在日米軍の日本における配置図



さらに、2020年の統計によると、沖縄県は高齢者(65歳以上)の割合が22.9%と、全国で最も少なくなっています。割合が少ない方の2位は24.3%の東京で、高いのは秋田県37.2%➡高知県35.5%の順です。(全国平均は29.1%で、茨城県は29.6%です)

また、沖縄県は人口が増えている県でしたが、2023年から減少が始まり、現在、人口が増えている都道府県は(67...あるだけすべて)だけになりました。



鹿児島県の屋久島は国連教育科学文化機関(ユネスコ)によって世界遺産に登録されています。屋久杉の原生林の中にある樹齢数千年の(68...?杉)が有名です。また、この島には九州地方の最高峰(1935m)の(69...山名)があり、山頂では夏に雪が降ることがあります。

さらに、奄美大島(鹿児島県)・徳之島(鹿児島県)・沖縄島北部やイリオモテヤマネコで知られる(70...島名と地図の記号で)もあります。



とどうふけん 都道府県の人口(人)2023			前年との 差(人)
1	東京都	14,099,993	59,261
2	神奈川県	9,229,713	-3,081
3	大阪府	8,774,574	-12,840
4	愛知県	7,480,897	-16,624
5	埼玉県	7,331,296	-5,877
6	千葉県	6,273,530	-1,748
7	兵庫県	5,369,834	-33,989
8	福岡県	5,106,912	-11,055
9	北海道	5,091,680	-47,842
10	静岡県	3,553,518	-28,676
11	茨城県	2,826,047	-15,037
---	---	---	---
25	沖縄県	1,468,375	-259
---	---	---	---
43	福井県	744,568	-8,408
44	徳島県	694,841	-8,904
45	高知県	666,293	-9,417
46	島根県	649,235	-8,607
47	鳥取県	537,318	-6,297

また、琉球王国の遺産郡(首里城や中城城)…地図の㉔や、「明治日本の産業革命遺産」



軍艦島ともよばれた端島炭坑

…軍艦島で知られる端島炭坑などの九州5県(地図の㉕)、福岡県の「神宿る島」宗像・沖ノ島と関連遺産群(地図の㉖)も世界遺産に登録されています。



さらに、(71)の伝来で知られる種子島には、宇宙ロケットの発射基地があります。日本の西の端の島が与那国島です。また、(72…島名と地図の記号で)は、古くから朝鮮半島との交流の窓口になってきた島です。





- ①対馬…朝鮮半島との交易
- ②筑紫山地…低くてなだらか
- ③筑紫平野…二毛作、減少するクリーク(水路)
- ④筑後川…筑紫次郎
- ⑤有明海…干拓・のりの養殖
- ⑥諫早湾…干拓で閉め切られた。干潟保護運動
- ⑦雲仙岳(普賢岳)…1990年の大噴火
- ⑧熊本平野…すいか
- ⑨八代平野…いぐさの栽培



- ⑩阿蘇山…世界最大級のカルデラ
- ⑪九州山地…高くてけわしい
- ⑫球磨川…三大急流
- ⑬宮崎平野…ピーマンなどの促成栽培
- ⑭桜島…雄大な活火山

- ⑮薩摩半島
- ⑯開聞岳…薩摩富士



- ⑰大隈半島
- ⑱種子島…鉄砲の伝来、宇宙センター
- ⑲種子島…鉄砲の伝来、宇宙センター
- ⑳与那国島…日本最西端(東経122度56分)

- ㉑沖縄島…択捉島と国後島に次ぐ大きさ、面積の20%をしめる米軍基地、サトウキビ・菊
- ㉒屋久島…杉の原生林(屋久杉・縄文杉)、九州地方最高峰1935mの宮之浦岳

国立公園

- ㉓西海国立公園…九十九島・五島列島などの美しい島々
- ㉔瀬戸内海国立公園…大分県の国東半島と瀬戸内海にまたがる国立公園
- ㉕阿蘇くじゅう国立公園…阿蘇山・久住山などの火山
- ㉖雲仙天草国立公園…雲仙岳・天草諸島
- ㉗霧島錦江湾国立公園…高千穂峰・屋久杉
- ㉘屋久島国立公園
- ㉙奄美群島国立公園
- ㉚やんばる国立公園
- ㉛慶良間諸島国立公園
- ㉜西表石垣国立公園…きれいな海とサンゴ礁とイリオモテヤマネコ(天然記念物)

世界遺産

- ㉑屋久島…杉の原生林(縄文杉)
- 奄美大島・徳之島・沖縄島北部および西表島





- おおいだ 大分県 ⑧ 別府市…温泉 ⑨ 大分市…鉄鋼・石油化学コンビナート
- くまもと 熊本県 ⑩ 熊本市…政令指定都市 ⑪ 水俣市…化学肥料・有機水銀による水俣病の公害
- みやまき 宮崎県 ⑫ 宮崎市
- かぎ 鹿児島県 ⑬ 鹿児島市…薩摩焼・九州新幹線
 ⑭ 名瀬市…奄美大島・大島つむぎ
- おきなわ 沖縄県 ⑮ 那覇市…首里城 などの世界文化遺産

百万都市(1 つ)…福岡市
政令指定都市(3 つ)…福岡市・北九州市・熊本市

世界遺産

- ① 琉球王国の遺産郡(首里城 や中城 城)
- ② 「明治日本の産業革命遺産」…軍艦島で知られる端島炭坑などの九州 5 県
- ③ 「神宿る島」宗像・沖ノ島と関連遺産群
 天草地方の潜伏キリシタン関連遺産

